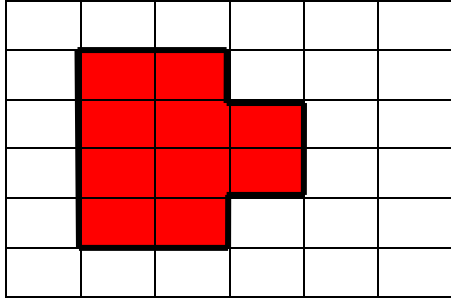


L'aire


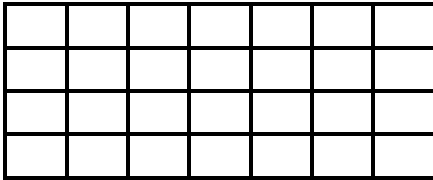
L'aire d'une figure est le nombre d'unités qui composent cette figure

Exemple



Aire de la figure ci-contre = 10 unités d'aire

1. Rami dessine 2 figures différentes . Observe-les puis complète :



La 1^{ère} figure est composée de unités et son aire = unités d'aire

La 2^{ème} figure est formée de unités et son aire = unités d'aire

2. Calcule l'aire des figures suivantes :-

Figure 1	Figure 2	Figure 3
Aire = -----	Aire = -----	Aire = -----