



la fraction comme partie de l'unitéQu'est ce qu'une fraction?

La fraction c'est partager une unité complète en parties égales.

Exemples :

Une unité

complète

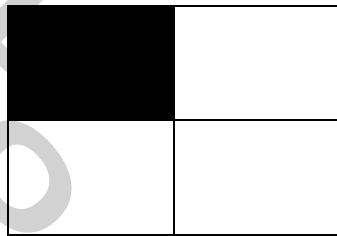


Une Partie de 2 =  $\frac{1}{2}$  (Un demi)


Une partie de 3 =  $\frac{1}{3}$  (un tiers)



Une partie de 4 =  $\frac{1}{4}$  (un quart)



Une partie de 6 =  $\frac{1}{6}$  (un sixième)

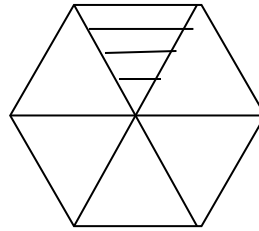


**1. Colorie les figures suivantes selon la fraction donnée comme dans l'exemple:**

**Exemple:**



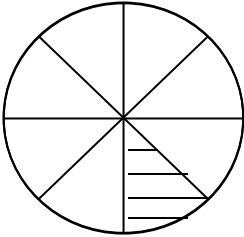
$$\frac{1}{7}$$



a)

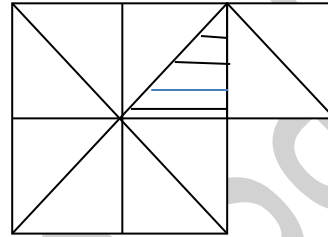
$$\frac{1}{6}$$

b)



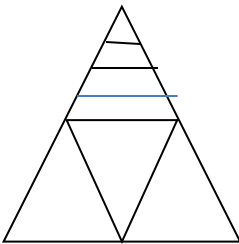
$$\frac{1}{8}$$

c)



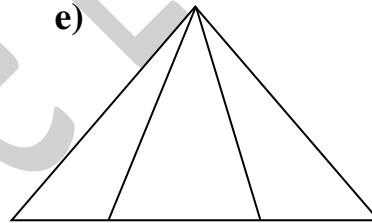
$$\frac{1}{10}$$

d)



$$\frac{1}{4}$$

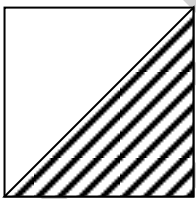
e)



ça ne va pas les parties ne sont pas égales

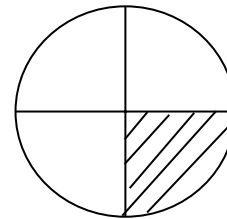
**2. Ecris la fraction selon la partie colorée comme dans l'exemple:**

**Exemple:**




$$\frac{1}{2}$$

a)



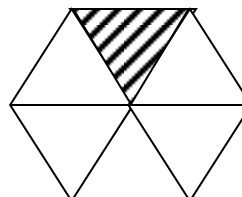
.....

b)



.....

c)



.....